

PROVES D'ACCÉS A LA UNIVERSITAT

PRUEBAS DE ACCESO A LA UNIVERSIDAD

CONVOCATÒRIA: JULIOL 2019	CONVOCATORIA: JULIO 2019
Assignatura: GEOGRAFIA	Asignatura: GEOGRAFÍA

BAREM DE L'EXAMEN:

Pregunta 1a-2,5 punts; pregunta 2a-2,5 punts; pregunta 3a-2,5 punts; pregunta 4a-2,5 punts

BAREMO DEL EXAMEN:

Pregunta 1ª-2,5 puntos; pregunta 2ª-2,5 puntos; pregunta 3ª-2,5 puntos; pregunta 4ª-2,5 puntos

EJERCICIO 1

1. Enumera las unidades de relieve y los ríos que corresponden a los números indicados sobre los perfiles topográficos del Documento anexo. Cada uno de los perfiles siguen el trazado que aparecen en el mapa del Documento 1 (2,5 puntos: cada acierto valdrá 0,14 puntos y cada error restará 0,07 puntos).
2. En el mapa del Documento 1 se han remarcado tres ríos respecto a los demás. Explica las diferencias de caudal y de capacidad erosiva que hay entre ellos (2,5 puntos).
3. Explica los factores tanto de origen natural como humano que explican las diferencias de caudal que existen entre los ríos de la Península Ibérica (2,5 puntos).
4. Explica los principales riesgos naturales relacionados con los ríos que afectan a España (2,5 puntos).

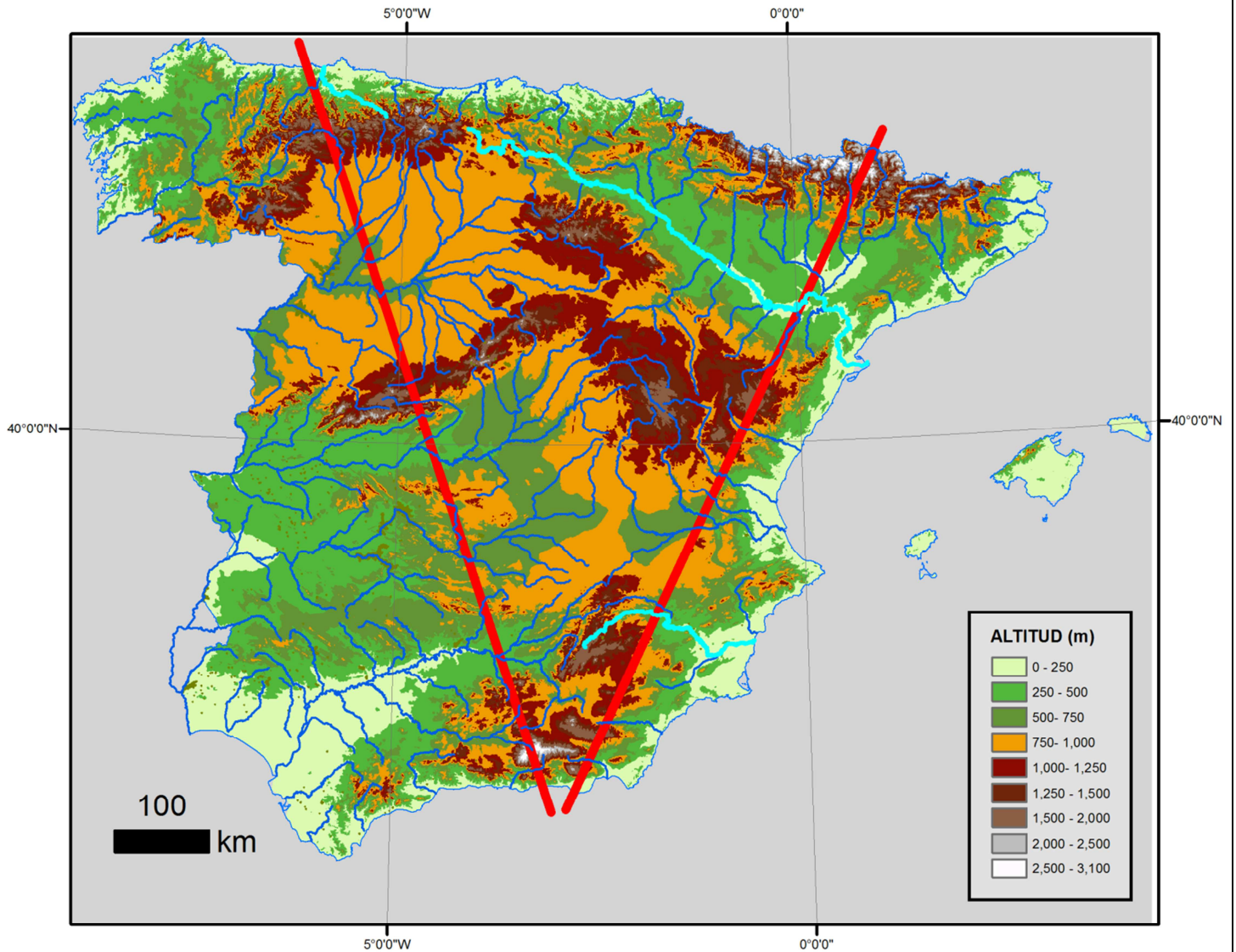
EXERCICI 1

1. Enumereu les unitats de relleu i els rius que corresponen als números indicats sobre els perfils topogràfics del Document annex. Cadascun dels perfils segueix el traçat que apareix en el mapa del Document 1 (2,5 punts: cada encert val 0,14 punts i cada error resta 0,07 punts).
2. En el mapa del Document 1 s'han remarcats tres rius respecte dels altres. Expliqueu les diferències de cabal i de capacitat erosiva que hi ha entre ells (2,5 punts).
3. Expliqueu els factors, tant d'origen natural com humà, que expliquen les diferències de cabal que hi ha entre els rius de la península Ibèrica (2,5 punts).
4. Expliqueu els principals riscos naturals relacionats amb els rius que afecten Espanya (2,5 punts).

DOCUMENT 1 / DOCUMENTO 1

Mapa hipsomètric de l'Espanya peninsular i de les Illes Balears (elaboració pròpia basada en el model digital d'elevacions de l'Institut Geogràfic Nacional)

Mapa hipsométrico de la España peninsular y de las Islas Baleares (elaboración propia basada en el Modelo Digital de Elevaciones del Instituto Geográfico Nacional)



PROVES D'ACCÉS A LA UNIVERSITAT

PRUEBAS DE ACCESO A LA UNIVERSIDAD

CONVOCATÒRIA: JULIOL 2019	CONVOCATORIA: JULIO 2019
Assignatura: GEOGRAFIA	Asignatura: GEOGRAFÍA

BAREM DE L'EXAMEN:

Pregunta 1a-2,5 punts; pregunta 2a-2,5 punts; pregunta 3a-2,5 punts; pregunta 4a-2,5 punts

BAREMO DEL EXAMEN:

Pregunta 1ª-2,5 puntos; pregunta 2ª-2,5 puntos; pregunta 3ª-2,5 puntos; pregunta 4ª-2,5 puntos

EJERCICIO 2

1. Realice un gráfico lineal con los todos los datos del Documento 1 y explique la evolución que muestra el mismo (2,5 puntos).
2. A partir del Documento 2, describa la distribución territorial del turismo en España y explique los factores que influyen en ella (2,5 puntos).
3. Explique cómo contribuye el turismo a la economía nacional (2,5 puntos).
4. Explique las principales consecuencias ambientales y socioculturales del turismo (2,5 puntos).

EXERCICI 2

1. Feu un gràfic lineal amb totes les dades del Document 1 i expliqueu l'evolució que s'hi mostra (2,5 punts).
2. A partir del Document 2, describiu la distribució territorial del turisme a Espanya i expliqueu els factors que hi influeixen (2,5 punts).
3. Expliqueu com contribueix el turisme a l'economia nacional (2,5 punts).
4. Expliqueu les principals conseqüències ambientals i socioculturals del turisme (2,5 punts).

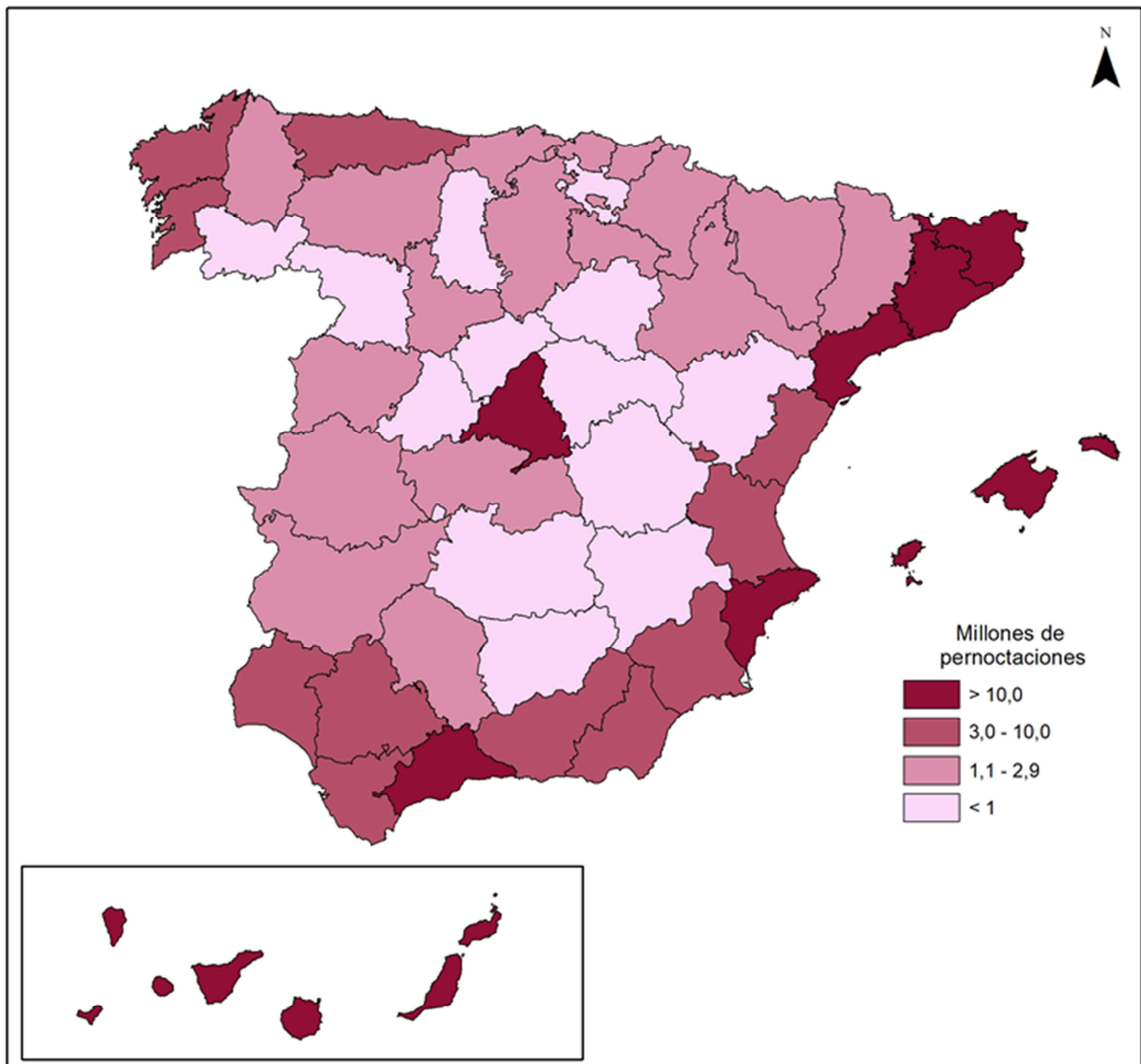
DOCUMENT 1 / DOCUMENTO 1

Espanya, 2002-2018: Viatgers allotjats a establiments hotelers <i>España, 2002-2018: Viajeros alojados en establecimientos hoteleros</i>			
Anys	Total de viatgers (milions)	Procedència	
		Espanya	Exterior
2002	59,9	33,3	26,6
2006	81,9	47,4	34,5
2010	81,9	46,2	35,7
2014	87,8	44,7	43,1
2018 (*)	105,3	51,1	54,2

(*) **Les dades de 2018 són provisionals. Font: INE: Enquesta d'ocupació hotelera.**
 (*) *Los datos de 2018 son provisionales. Fuente: INE: Encuesta de ocupación hotelera.*

DOCUMENT 2 / DOCUMENTO 2

Total de pernотacions a cada província espanyola durant l'any 2018 (*)
Total de pernотaciones en cada provincia española durante el año 2018 ()*



(*) **En el conjunto d'Espanya hi va haver 340.251.479 pernотacions en hotels. (Xifres provisionals) Font: INE: Enquesta d'ocupació hotelera.**
 (*) *En el conjunto de España hubo 340.251.479 pernотaciones en hoteles. (Cifras provisionales) Fuente: INE: Encuesta de Ocupación Hotelera*

PROVES D'ACCÉS A LA UNIVERSITAT

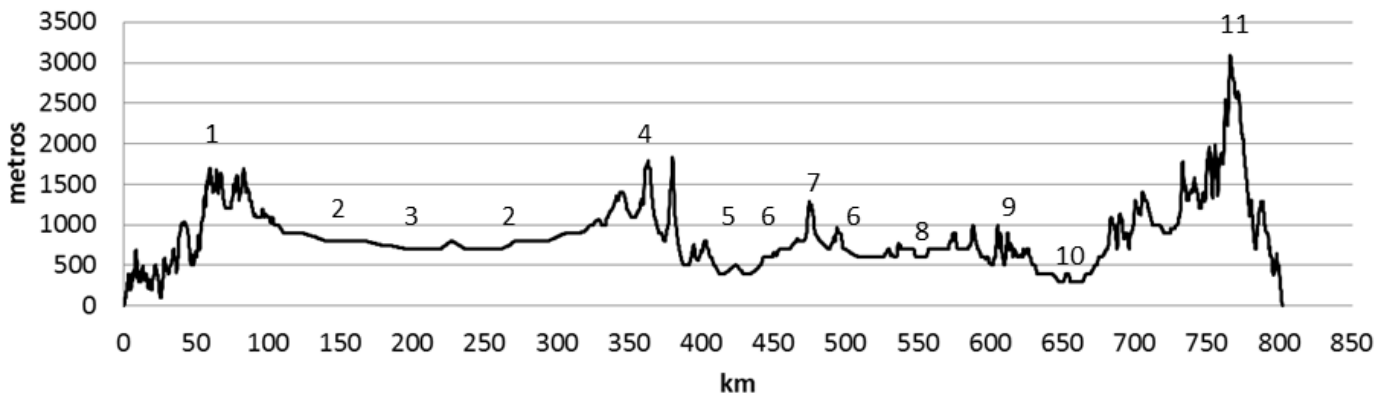
PRUEBAS DE ACCESO A LA UNIVERSIDAD

CONVOCATÒRIA: JULIOL 2019	CONVOCATORIA: JULIO 2019
Assignatura: GEOGRAFIA	Asignatura: GEOGRAFÍA

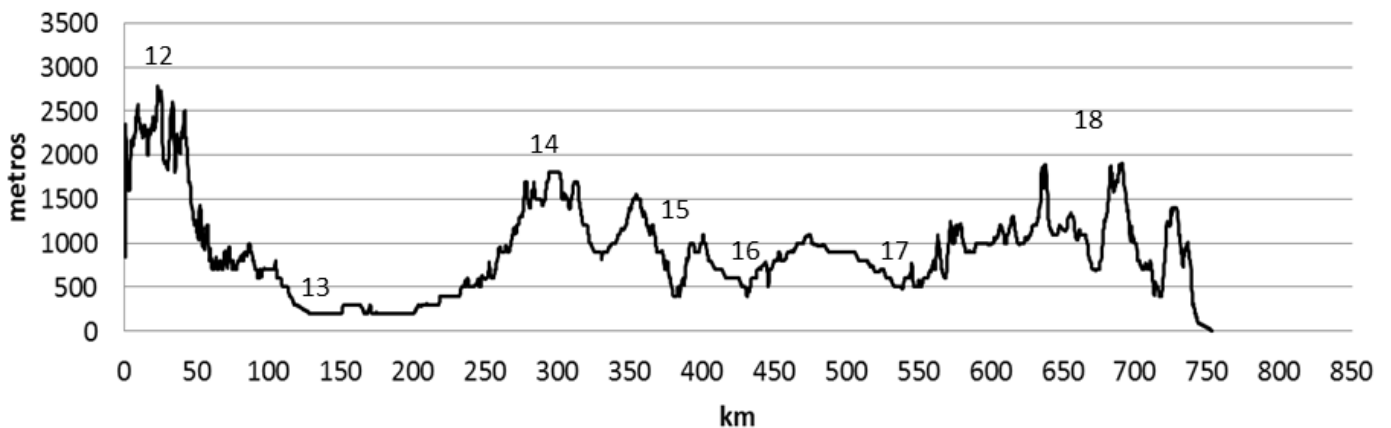
Etiqueta de l'estudiant / Etiqueta del estudiante

DOCUMENT ANNEX EXERCICI 1 / DOCUMENTO ANEXO EJERCICIO 1

perfil nº 1



perfil nº 2



PROVES D'ACCÉS A LA UNIVERSITAT

PRUEBAS DE ACCESO A LA UNIVERSIDAD

CONVOCATÒRIA: JULIOL 2019	CONVOCATORIA: JULIO 2019
Assignatura: GEOGRAFIA	Asignatura: GEOGRAFÍA

Etiqueta de l'estudiant / Etiqueta del estudiante

DOCUMENT ANNEX EXERCICI 2 / DOCUMENTO ANEXO EJERCICIO 2

