

PROVES D'ACCÉS A LA UNIVERSITAT

PRUEBAS DE ACCESO A LA UNIVERSIDAD

CONVOCATÒRIA: JULIOL 2018	CONVOCATORIA: JULIO 2018
Assignatura: GEOGRAFIA	Asignatura: GEOGRAFÍA

BAREM DE L'EXAMEN:

Pregunta 1^a-2,5 punts; pregunta 2^a-2,0 punts; pregunta 3^a-3,0 punts; pregunta 4^a-2,5 punts

BAREMO DEL EXAMEN:

Pregunta 1^a-2,5 puntos; pregunta 2^a-2,0 puntos; pregunta 3^a-3,0 puntos; pregunta 4^a-2,5 puntos

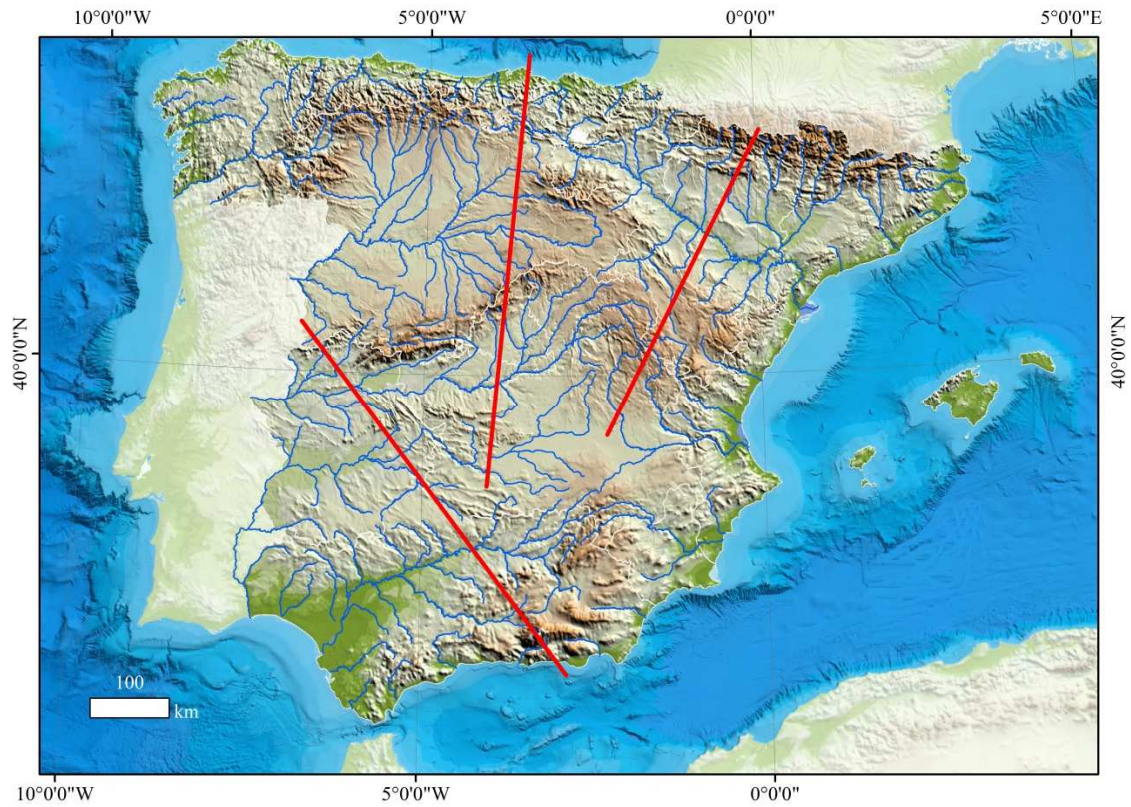
EJERCICIO 1

1. En el mapa del Documento 1 están localizadas las alineaciones correspondientes a los tres perfiles (A, B y C) del Documento 2. Identifica las diez morfoestructuras señaladas con número en dichos perfiles.
2. Identifica los nombres de los ríos que aparecen señalados con letras en los perfiles del Documento 2. Indica a qué vertiente llevan sus aguas cada uno de ellos.
3. Explica de qué forma influye la distribución del relieve en la Península Ibérica sobre la dimensión, caudal y capacidad erosiva de los principales ríos peninsulares. Explica, además del relieve, qué otros factores naturales pueden ser importantes para explicar el caudal y la capacidad erosiva.
4. Explica en qué zonas de la España peninsular es más problemática la falta de agua. Señala qué causas naturales y socioeconómicas explican la necesidad de más agua.

EXERCICI 1

1. En el mapa del document 1 estan localitzades les alineacions corresponents als tres perfils (A, B i C) del document 2. Identifiqueu les 10 morfoestructures assenyalades amb un número en aquests perfils.
2. Identifiqueu els noms dels rius que apareixen assenyalats amb lletres en els perfils del document 2. Indiqueu a quin vessant porta l'aigua cadascun d'aquests rius.
3. Expliqueu de quina forma influeix la distribució del relleu a la península Ibèrica sobre la dimensió, el cabal i la capacitat erosiva dels principals rius peninsulars. Expliqueu, a més del relleu, quin altres factors naturals poden ser importants per a explicar el cabal i la capacitat erosiva.
4. Expliqueu en quines zones de l'Espanya peninsular és més problemàtica la falta d'aigua. Assenyaleu quines causes naturals i socioeconòmiques expliquen la necessitat de més aigua.

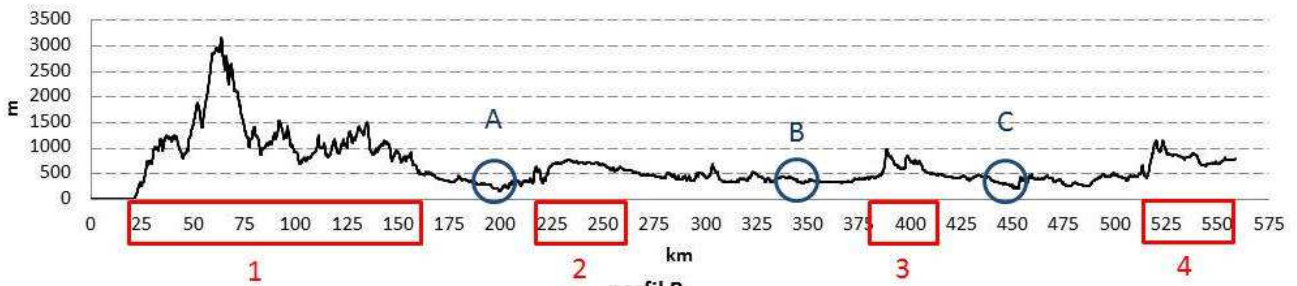
DOCUMENT 1 / DOCUMENT 1



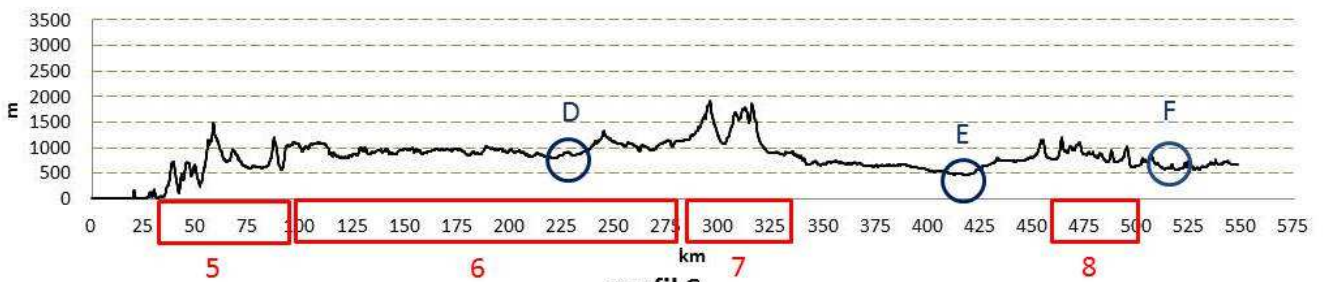
Font: CNIG. Elaboració pròpia
 Font: CNIG. Elaboració pròpia

DOCUMENT 2 / DOCUMENT 2

perfil A



perfil B



perfil C



Font: perfils obtinguts a partir de la gestió de l'MDE 200 m de l'IGN / elaboració pròpia
 Font: Perfils obtinguts a partir de la gestió del MDE 200 m de l'IGN/ Elaboració pròpia.

PROVES D'ACCÉS A LA UNIVERSITAT

PRUEBAS DE ACCESO A LA UNIVERSIDAD

CONVOCATÒRIA: 2018	CONVOCATORIA: 2018
Assignatura: GEOGRAFIA	Asignatura: GEOGRAFIA

BAREM DE L'EXAMEN:

Pregunta 1^a-2,5 punts; pregunta 2^a-2,5 punts; pregunta 3^a-2,5 punts; pregunta 4^a-2,5 punts

BAREMO DEL EXAMEN:

Pregunta 1^a- 2,5 puntos; pregunta 2^a- 2,5 puntos; pregunta 3^a – 2,5 puntos; pregunta 4^a – 2,5 puntos.

EJERCICIO 2

1. Basándote en la información facilitada por el Documento 1, calcula la tasa de crecimiento vegetativo en cada uno de los años y represéntala junto con las tasas de natalidad y mortalidad en un gráfico lineal.
2. Utilizando también los datos del mapa del Documento 2, explica razonadamente la evolución de la natalidad en España, las causas de esta evolución y los desequilibrios territoriales de dicha tasa de natalidad.
3. Con toda la información anterior, explica la evolución de la mortalidad y esperanza de vida en España y los factores que influyen en ella.
4. Argumenta razonadamente los retos y los problemas demográficos predecibles que deberá afrontar en un futuro la población española.

EXERCICI 2

1. Basant-vos en la informació facilitada pel document 1, calculeu la taxa de creixement vegetatiu en cadascun dels anys i representeu-la juntament amb les taxes de natalitat i mortalitat en un gràfic lineal.
2. Utilitzant també les dades del mapa del document 2, expliqueu raonadament l'evolució de la natalitat a Espanya, les causes d'aquesta evolució i els desequilibris territorials d'aquesta taxa de natalitat.
3. Amb tota la informació anterior, expliqueu l'evolució de la mortalitat i de l'esperança de vida a Espanya i els factors que hi influeixen.
4. Argumenteu raonadament els reptes i els problemes demogràfics predictibles que haurà d'afrontar en un futur la població espanyola.

DOCUMENT 1 / DOCUMENTO 1

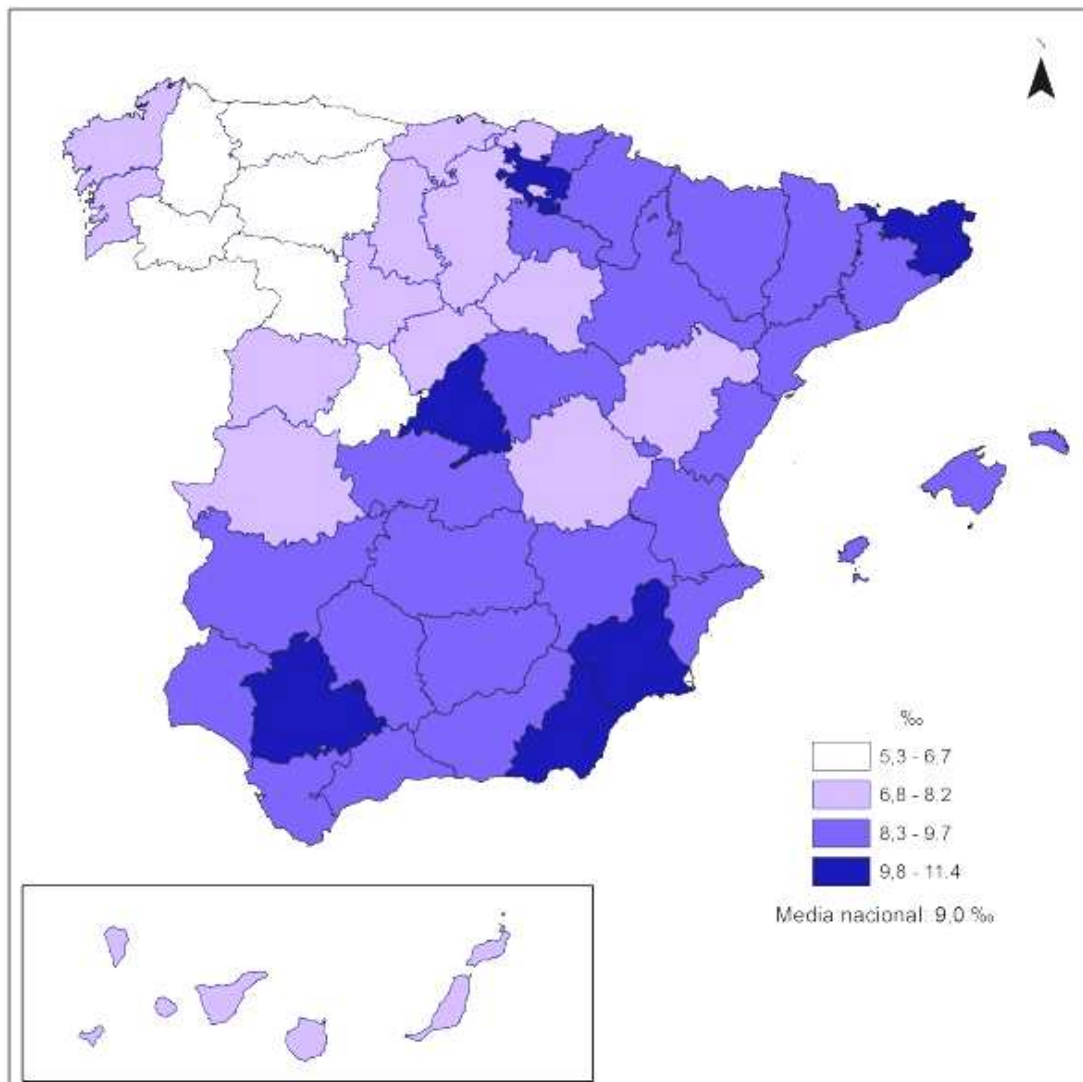
Evolució dels distints indicadors demogràfics de la població espanyola (1975-2015) *Evolución de distintos indicadores demográficos de la población española (1975-2015)*

Año	Tasa de natalidad (‰)	Nº de hijos por mujer	Edad media de la madre al primer nacimiento	Tasa de mortalidad (‰)	Esperanza de vida (años)
1975	18,7	2,77	25,2	8,3	73,5
1985	11,9	1,64	25,8	8,1	76,4
1995	9,2	1,16	28,4	8,7	78,1
2005	10,6	1,33	29,3	8,8	80,3
2015	9,0	1,33	30,7	9,1	82,7

Font/Fuente: INE: Indicadores demográficos básicos

DOCUMENT 2 / DOCUMENTO 2

Províncies espanyoles, 2015: taxa bruta de natalitat (‰) *Provincias españolas, 2015: Tasa Bruta de Natalidad (‰)*



Font/Fuente: INE: Indicadores Demográficos Básicos

PROVES D'ACCÉS A LA UNIVERSITAT

PRUEBAS DE ACCESO A LA UNIVERSIDAD

CONVOCATÒRIA: JULIOL 2018

CONVOCATORIA: JULIO 2018

Assignatura: GEOGRAFIA

Asignatura: *GEOGRAFÍA*

Etiqueta de l'estudiant / Etiqueta del estudiante

DOCUMENT ANNEX EXERCICI 2 / DOCUMENTO ANEXO EJERCICIO 2

